

PELAJARAN 15 – Presentasi – Part 2

CATATAN PELAJARAN

Peran

Harvey Judd: Kepala Bagian Pembelian perusahaan Hale and Hearty Foods
 Victoria Song: Asisten Manajer Hubungan Internasional Hale and Hearty Foods
 Caroline Grabbo: Kepala Bagian Adminstrasi. Wakil Douglas Hale.
 Lok Lee: Pemilik perkebunan teh (bersama Lian istrinya)

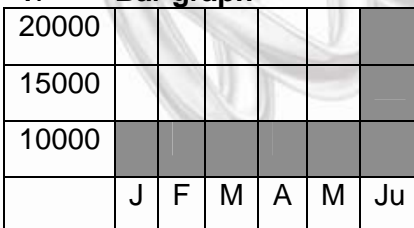
Jalan Cerita

Victoria terbentur kemajuan teknologi, komputernya macet. Victoria panik mencari alat pengganti. Harvey mengisi kekosongan waktu dengan membentangkan angka-angka proyeksi. Setelah tenang kembali, Victoria melanjutkan presentasinya perihal pemasaran yang pernah dilakukan untuk produk 'Suki Tofu'. Caroline menjelaskan kepada Lian dan Lok garis besar persyaratan kerjasama antara kedua perusahaan.

Bahasa – Bantuan diagram

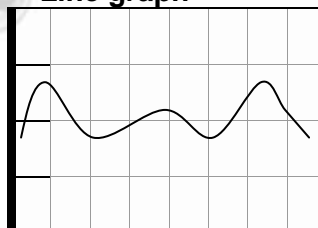
Alat bantu visual sering diperlukan dalam presentasi dan dapat bermacam-macam bentuknya. Semua contoh grafik dan tabel di bawah ini menyangkut angka penjualan.

1. **Bar graph**



Sales **rose sharply** in June.
 There was a **sharp increase** in sales.
 There was a **rapid rise** in sales.

2. **Line graph**



Sales **fluctuated**.

3. **Table**

	Profits
Jan	\$19,878
Feb	\$40,000
Mar	\$22,000

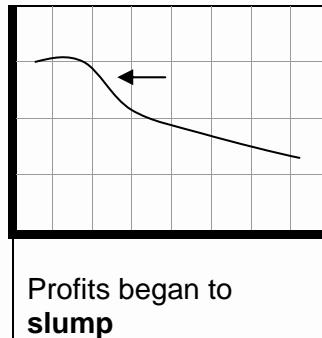
There was a **peak** in profits in February

4

20000						
15000						
10000						
	J	F	M	A	M	Ju

Sales remained **stable** for the first six months.

5.



6.

	Profits
May	\$19,500
June	\$20,000
July	\$15,000

There was a **sharp drop** in profits in July.

LATIHAN

1. Kosa kata penting

Carilah arti dan cara pengucapan kata-kata di bawah ini pada kamus:


advertise	campaign	chart
consumer	drop	graph
illustrate	increase	launch
morale	peak	point
positive	profits	quarterly
recover	rise	sign
significant	stable	target

2. Latihan Bahasa – Menjelaskan diagram

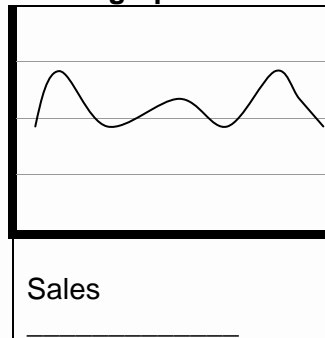
Pilihlah kata yang sesuai dari kotak di bawah ini untuk melengkapi kalimat penjelasan pada masing-masing grafik atau tabel. Setelah itu, bacalah dengan suara keras.

sharp	slump	rise	fluctuated	stable	peak
-------	-------	------	------------	--------	------

1. Bar graph



2. Line graph

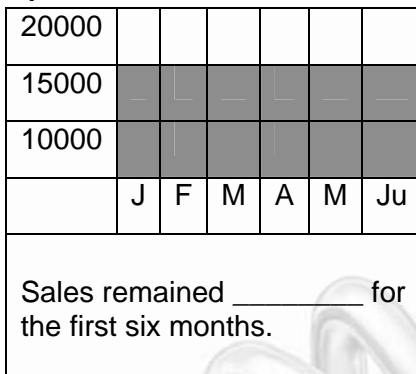


3. Table

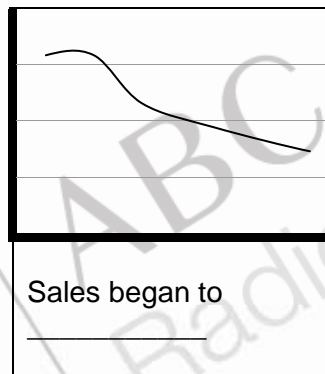
	Profits
Jan	\$19,878
Feb	\$20,000
Mar	\$32,000

There was a dramatic _____ in profits in March.

4



5.



6.

	Profits
May	\$19,500
June	\$20,000
July	\$15,000

There was a _____ drop in profits in July.

4. Latihan Ucapan

Ucapkan berulang-ulang dengan suara keras:

You can see from this table
 This table
 This table
 That profits have dropped
 But sales remain stable.

Answers 2.:1) peak 2) fluctuated.3) rise (increase) 4) stable 5) slump 6) sharp